



Hafız Yetiştirme ve Akademik Başarıyı Destekleme Projesi

HAFİZ YETİŞTİRME VE AKADEMİK BAŞARIYI DESTEKLEME PROJESİ SEVİYE BELİRLEME SINAVI (05 MAYIS 2018 - 14:00)

Ad - Soyad :
Okul :
Sınıf - No :

ALANLAR	SORU SAYISI	TOPLAM SORU SAYISI	SÜRE
1. BÖLÜM	40	80	100 DAKİKA
2. BÖLÜM	40		

1. Sınav süresince gözetmenlerin uyarılarına dikkat ediniz.
 2. Sınav süresince kitap, sözlük veya elektronik araçları yanınızda bulundurmuyunuz.
 3. Cevap kağıdınızdaki bilgilerin doğruluğunu kontrol ediniz.
 4. Kitapçık üzerindeki ad-soyad, sınıf-no, okul bilgileriniz kodlamayı unutmayınız.
 5. Cevap kağıdınız üzerinde bulunan kitapçık türünü doğru kodladığınızdan emin olunuz.
 6. Sınavın değerlendirilmesi optik okuma araçları ve elektronik ortamda yapılacağından ikili veya toplu kopya çekilmesi tespit edilmektedir. Bu gibi durumlarda sınavınız geçersiz sayılacaktır.
 7. Cevap kağıdı üzerinde kurşun kalemle işaretleme yapınız. Değiştirmek istediğiniz cevabınızı yumuşak silgi ile iz bırakmadan siliniz. Cevap kağıdınızı buruşturmayınız ve katlamayınız.
 8. Soru kitapçığınızı sınav başlamadan kontrol ediniz. Eksik sayfa varsa değiştirilmesini isteyiniz.
 9. Sınav bitiminde cevap kağıdınızı teslim etmeyi unutmayınız. Her sorunun bir doğru cevabı bulunmaktadır.
 10. Başlayınız denilmeden kitapçığınızı açmayınız.
 11. Yanlış cevaplar doğru cevapları götürmemektedir.
 12. ÖNEMLİ: TC Kimlik numaranızı cevap formu üzerindeki alana dikkatli kodlayınız.
- © Her hakkı saklıdır. İzinsiz kopyalanamaz, alıntı yapılamaz, yayınlanamaz.

hafiziho.meb.gov.tr

1. Bir sözcük veya söz öbeğinin temel ve yan anlamlarından sıyrılarak başka bir anlamda kullanılmasına mecaz anlam denir. Atasözü ve deyimlerimizde çokça görülür.

Buna göre aşağıdakilerden hangisinde mecaz anlama örnek bulunmamaktadır?

- A) Teşekkür etmek için ne yapacağını düşündü.
B) İçinde fırtınalar kopuyor ama kimseye belli etmiyordu.
C) Utancından yerin dibine geçmek üzereydi.
D) O kadar sevinçliydi ki havalarda uçuyordu.

2. I- Durağan
II- Durgun
III- Duygu
IV- Dünder
V- Durum

Verilen sözcükler alfabetik olarak sıralandığında 3. sıraya hangisi gelmelidir?

- A) Durağan
B) Durum
C) Duygu
D) Durgun

3. **Aşağıdaki cümlelerin hangisinde zıt anlamlı kelimeler bir arada kullanılmamıştır?**

- A) Yemek pişiyor, çoğu gitti azı kaldı.
B) Sevinci ve üzüntüyü bir arada yaşadık.
C) İyi ile kötü mücadelesi Hz. Adem'den beri devam ediyor.
D) 2003'ten sonra ülkemiz çok gelişti.

4. -lı, -li eki bir kelimenin sonuna getirildiğinde o kelimeye aitlik, ilgi, bağlılık ve sahiplik gibi anlamlar katar. Örneğin "anlayış" kelimesinin sonuna getirildiğinde kelimeyi anlayış sahibi anlamına gelen "anlayışlı" olarak değiştirir.

Metinde anlatılan kurala aşağıdakilerden hangisinde örnek verilmemiştir?

- A) Elli koyunun zekatını hesaplıyorlardı.
B) Öğretmenimiz çok bilgili bir insandı.
C) Konyalı arkadaşım şehrimize yeni gelmişti.
D) Alışveriş için pahalı olmayan bir yer aradı.

5. Başarının anahtarı çalışmak değil midir(1) Öyle sıradan çalışmaktan mı bahsediyorum sandınız(2) Çok çalışmaktan(3) gecesini gündüzüne katıp kendinden geçercesine çalışmaktan bahsediyorum(4)

Metinde rakamlarla gösterilen yerlere sırasıyla gelmesi gereken noktalama işaretleri aşağıdakilerden hangisinde doğru olarak verilmiştir?

	1	2	3	4
A)	:	,	?	,
B)	,	:	.	!
C)	?	?	,	.
D)	:	;	,	,

6. Türkçede sonuna geldiği kelimeye içinde olma, bulunma anlamı kazandıran ve ismin -de hali olarak nitelendirilen -de eki sonuna geldiği kelimeye bitleştirilerek yazılır. Ancak bile, dahi anlamına gelen de bağlacı ise ayrı yazılır.

Buna göre aşağıda altı çizili bölümlerden hangisinde yazım yanlışı yapılmıştır?

- A) Gece sokakta kimsecikler yoktu.
B) Para bende olduğuna göre ben öderim.
C) Senin de niyetin belli oldu.
D) Dost acida söylese doğruyu söyler.

7. Geleceğe umutla bakmak için geçmişimizi iyi bilmemiz gerekir. Milli kimliğimizin farkında olmalı, bizi biz yapan değerleri korumalı, dinimizin bize kattığı bu değerlere sınımsız sarılmalıyız.

Metinden aşağıdakilerden hangisi çıkarılamaz?

- A) Tarihimizi öğrenmemiz gerekir.
B) Başka kültürlerle özenmemeliyiz.
C) Yabancılara yardım etmek doğru değildir.
D) İslam'ın değerlerini öğrenmek milli kimliğimizi korumamızı sağlar.

8. Ağızına geleni söylemek, ağır sözlerle hakaret etmek, azarlamak gibi anlamlara gelir.

Bu deyim aşağıdaki cümlelerden hangisinde bulunmaktadır?

- A) Gözünüzü yummadan alamayacağınız şeyleri sadaka diye vermeyin.
B) Adam evine gelir gelmez babası verdi vermişti.
C) Durup dururken ağlamaya başladı.
D) Kendine gelmesi için ona doğruları bir çırpıda söyledi.

9. I- Termometreler eksi 7'yi gösteriyordu.

II- Kar yağışı henüz başlamıştı.

III- Manzara o kadar güzeldi ki insan bakmaya doyamazdı.

Verilen cümlelerden hangisi ya da hangilerinde öznel anlatım bulunmaktadır?

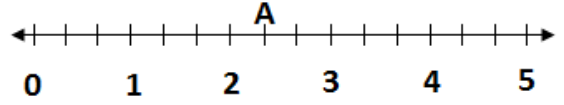
- A) Yalnız I
B) Yalnız III
C) I ve II
D) II ve III

10. Kur'an-ı Kerim, insanlara her zaman doğru yolu göstermiştir?

Verilen cümlede aşağıdaki sorulardan hangisinin cevabı yoktur?

- A) Ne zaman?
B) Neyi?
C) Kime?
D) Nasıl?

11.



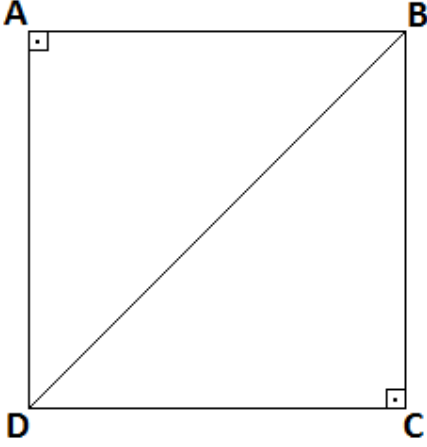
Verilen sayı doğrusunda A noktasına gelen kesir aşağıdakilerden hangisidir?

- A) $\frac{2}{3}$
B) $1\frac{2}{5}$
C) $2\frac{1}{3}$
D) $3\frac{3}{5}$

12. Aşağıda okunuşları verilen sayılar küçükten büyüğe sıralandığında 2. sıraya hangisi gelmelidir?

- A) Yedi yüz bin yedi
B) Yedi yüz elli yedi bin yetmiş yedi
C) Yedi yüz yedi bin yetmiş yedi
D) Yedi yüz yetmiş yedi bin yedi

13.



ABCD şekli bir kare olduğuna göre aşağıdakilerden hangisi doğru değildir?

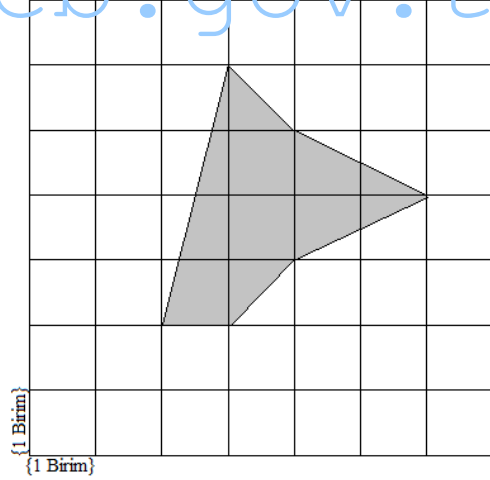
- A) Tüm kenarlarının uzunlukları eşittir.
- B) ADB üçgeninin iç açılarının toplamı 360 derecedir.
- C) CBD üçgeni ile ADB üçgeninin alanları birbirine eşittir.
- D) Bu şeklin simetri doğrusu vardır.

15. 17803 sayısının rakamlarından hangi ikisinin yeri karşılıklı değiştirilirse oluşacak yeni sayı 72098 sayısından büyük olur?

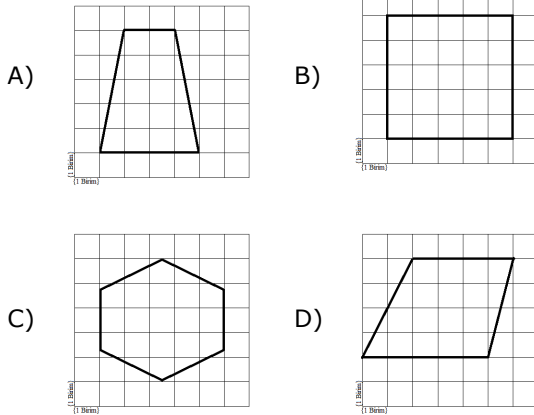
- A) 1 ile 8
- B) 7 ile 8
- C) 1 ile 7
- D) 8 ile 3

hafiziho.meb.gov.tr

16.



14. Aşağıdaki düzlemsel şekillerden hangisinin simetri doğrusu yoktur?



Şekildeki boyalı bölgenin alanı kaç birim karedir?

- A) 4
- B) 5
- C) 6
- D) 7

- 17.** Bir pazarcı satın aldığı 240 kg meyvenin $\frac{5}{12}$ 'sini Pazartesi pazarında, $\frac{3}{10}$ 'unu Salı pazarında, $\frac{1}{8}$ 'ini Çarşamba pazarında satmıştır.

Buna göre pazarcının elinde Çarşamba akşamı kaç kg meyve kalmıştır?

- A) 38
B) 42
C) 46
D) 56

- 18.** İki futbol takımı arasında oynanan bir maçta ilk yarıda üç gol atılmıştır. Maçın başlama saati 20:45'tir. Saatler 20:53'ü gösterdiğinde ilk gol, 21:02'yi gösterdiğinde ikinci gol, 21:27'yi gösterdiğinde ise üçüncü gol atılmıştır.

Buna göre maçın ilk yarısının kaçınıcı dakikasında gol çıkmamıştır?

- A) 8
B) 17
C) 28
D) 42

19.

I	II	III	IV
$\frac{9}{17}$	$\frac{6}{17}$	$\frac{13}{17}$	$\frac{4}{17}$

Tablodaki kesirlerin küçükten büyüğe sıralanışı aşağıdakilerden hangisinde gösterilmiştir?

- A) I < III < IV < II
B) IV < II < I < III
C) I < II < IV < III
D) IV < III < II < I

20.

$$\begin{array}{r|l} 3 * * & 1 * \\ 26 & 26 \\ \hline 0 * * \\ * * \\ \hline 08 \end{array}$$

Verilen bölme işleminde her yıldız işareti bir rakama karşılık gelmektedir. Buna göre bölünen sayı aşağıdakilerden hangisidir?

- A) 264
B) 324
C) 346
D) 366

- 21.** I- Vücutumuzdaki kemikleri birleştiren yapının adıdır.

II- Vücutumuzun dik durmasını sağlayan yapının adıdır.

III- Kalp ve akciğer gibi gövdemizde yer alan ve yaşamsal önemi büyük olan organlarımızı koruyan kemik sistemidir.

Verilen açıklamalarda aşağıdakilerden hangisinin tanımı bulunmamaktadır?

- A) Omurga
B) Göğüs kafesi
C) Kafatası
D) Eklem

- 22.** Soluk alıp verme ile ilgili aşağıdakilerden hangisi doğru değildir?

- A) Soluk alıp verme kalpte tamamlanır.
B) Soluk alıp veren organların vücudun dışına açılan kapısı burundur.
C) Vücuttaki karbondioksit oksijenin soluk alırken izlediği yolu tersine giderek vücuttan atılır.
D) Oksijen akciğer aracılığı ile kana karışır.

23.



İskelet ve kas sistemimizin sağlığı için dikkat etmemiz gereken bazı kurallar vardır. Örneğin

Metnin sonuna aşağıdakilerden hangisi getirilmemelidir?

- A) Yerden ağır bir nesne alırken ani hareketlerden kaçınmalıyız.
- B) Çantamızı sırtımıza alırken her iki omzumuzu eşit olarak yüklenmeliyiz.
- C) Sandalyede dik bir şekilde oturmalıyız.
- D) Yere düşen bir nesneyi dizlerimizi bükmeden belimizi bükerek almamız.

24. I-Metin, karanlıkta yürürken aniden karşısında gördüğü karaltıdan çok korktu.

II- Mehmet, sınıf arkadaşlarıyla maça başlamış, topu yakalamak için koşuyordu.

III- Ceren, sevdiği diziyi seyrederken televizyon karşısında uyuyakaldı.

Verilenlerin hangisi ya da hangilerinde nabız atış ve soluk alıp verme sayısı artmış olmalıdır?

- A) Yalnız I
- B) Yalnız III
- C) I ve II
- D) II ve III

25. Vücudumuz için gerekli besinleri ve oksijeni taşır. Kalp tarafından pompalanır ve vücudun her noktasına ulaştırır.

Metinde aşağıdakilerden hangisinin işlevine değinilmektedir?

- A) Omurilik
- B) Kan
- C) İskelet yapısı
- D) Sinirler

26. Vurarak, gererek, sıkarak veya bükerek cisimlerin şeklini değiştirebiliriz. Buna kuvvetin bir cismin şeklini değiştirmesi adı verilir. Şekli değişen cisim esneklik özelliğine sahip değilse eski haline dönemeyebilir.

Aşağıdakilerden hangisi metinde verilen açıklamaya örnek gösterilebilir?

- A) Portakalın suyunu çıkarmak
- B) Duran topa vurmak
- C) Arabanın frene basılarak durdurulması
- D) Rüzgarın pervaneyi çevirmesi

27.



Örneği açıklayan ilke aşağıdakilerden hangisidir?

- A) Mıknatısın kuzey kutbu güney kutbunu çeker.
- B) Zıt kutuplar birbirini iter.
- C) Mıknatıs, hammaddesi kağıt olan maddeleri çekmez.
- D) Demir, nikel ve kobalt içeren maddeler mıknatıs tarafından çekilir.

28. I- Belirli bir şekilleri yoktur.

II- Oksijen bu maddelere örnektir.

III- Çok küçük gözeneklerden kaçabilirler.

Verilenlerin hangisi ya da hangileri gaz halindeki maddeler için doğrudur?

- A) Yalnız I
- B) Yalnız III
- C) II ve III
- D) I, II ve III

29. Merve, bazı maddelerin özelliği ile ilgili aşağıdaki tabloyu doldurmak istemektedir.

	Suda batar	Suda batmaz	Suyu çeker	Suyu çekmez
Plastik oyuncak				
Çivi				
Tahta				

Merve'nin bu tabloyu doğru doldurması için hangi hücrelere işaret koymalıdır?

A)

	Suda batar	Suda batmaz	Suyu çeker	Suyu çekmez
Plastik oyuncak		X		X
Çivi	X			X
Tahta		X	X	

B)

	Suda batar	Suda batmaz	Suyu çeker	Suyu çekmez
Plastik oyuncak	X		X	
Çivi		X	X	
Tahta	X			X

C)

	Suda batar	Suda batmaz	Suyu çeker	Suyu çekmez
Plastik oyuncak	X			X
Çivi	X		X	
Tahta		X	X	

D)

	Suda batar	Suda batmaz	Suyu çeker	Suyu çekmez
Plastik oyuncak		X		X
Çivi		X		X
Tahta	X		X	

30.



Yukarıda ampul lamba ve tasarruflu olarak nitelendirilen bir diğer lamba çeşidine ait görseller yer almaktadır.

Buna göre aşağıdakilerden hangisi bu iki ampul çeşidinin ortak özellikleri olarak söylenebilir?

- A) Ortalama kullanım süreleri aynıdır.
- B) Çevrelerine ısı yayarlar.
- C) Elektrik enerjisi ile çalışırlar.
- D) Enerji harcama miktarları aynı olduğu için ekonomiktirler.

31. Merve kendini arkadaşlarına tanıtmak için kısa bir konuşma yapmak istiyordu. Bunun için yaşamında önemli kabul ettiği bazı olayları söylemesi gerekiyordu.

Buna göre Merve'nin aşağıdakilerden hangisini söylemesi gerekmez?

- A) 2008 yılında doğdum.
- B) Doğum yerim Konya'nın Selçuklu ilçesidir.
- C) Dün okula otobüsle geldim.
- D) 2004 yılında ilkokula başladım.

32. İyilik yaparsam herkes beni sever. Herkesin beni sevmesi beni de mutlu eder. Çevremdekilerin farklı fikirlerde olmasını doğal karşılarım. Sonuçta herkes aynı fikirde olmak zorunda değil. Farklılıklara saygı gösterirsem bana da saygı gösterirler.

Mehmet'in söylediklerinden aşağıdakilerden hangisine ulaşamaz?

- A) Başkalarından farklı düşünmek hoş bir davranış değildir.
- B) Sevilmek insanda mutluluğu arttırır.
- C) Herkesin kendine özgü duygu ve düşünceleri olabilir.
- D) İyilik yapan insan kendisi de mutlu olur.

34. I. Dünya Savaşı sonunda Osmanlı Devletinin işgal edilmesine zemin hazırlayan ateşkes antlaşmadır. Bu antlaşmanın ağır maddeleri nedeniyle İngiltere, Fransa, İtalya ve Yunanistan kısa zaman sonra yurdumuzu işgal etmeye başladılar.

Metinde dikkat çekilen antlaşma aşağıdakilerden hangisidir?

- A) Ankara Antlaşması
- B) Mudanya Antlaşması
- C) Lozan Antlaşması
- D) Mondros Antlaşması

hafiziho.meb.gov.tr

33. Oyun için 12 çukur ve her oyuncunun kazanacağı taşlarını koyacağı bir büyük çukur hazırlanır. Oyuncular oyun başında kendi tarafındaki 6 kuyuya 4 taş koyar. İlk oyuncu kendi tarafındaki çukurlardan birinin içindeki taşları saatin tersi yönünde, çukurlara birer birer bırakarak ilerler.

Başlangıcı bu şekilde anlatılan kültürümüze ait olduğu bilinen oyunun adı aşağıdakilerden hangisidir?

- A) Çelik çomak
- B) Mangala
- C) Mendil kapmaca
- D) Beştaş

35. I- Ali Saip Bey

II- Şahin Bey

III- Sütçü İmam

Yukarıda Kurtuluş Savaşımızın değerli üç kişiliğine ait isimler yer almaktadır.

Bu isimlerin ortak özelliği ile ilgili aşağıdakilerden hangisi söylenemez?

- A) Fransızlara karşı mücadele ettiler.
- B) Güney Cephesinin kahramanları olarak kabul edilirler.
- C) Kazım Karabekir Paşa'ya Doğu cephesinde yardımda bulundular.
- D) Şehirlerine Gazi, Kahraman ve Şanlı unvanlarının verilmesini sağlayan mücadelede bulundular.

36. Milli Mücadelemizde yeri çok önemli olan savaştır. 22 gün 22 gece süren bu savaşla birlikte artık ordumuz geri çekilmeyecek ve karşı saldırı ile düşmanı Anadolu topraklarından kovacaktır.

Bu savaşın adı aşağıdakilerden hangisidir?

- A) Çanakkale Kara Savaşı
- B) Sakarya Meydan Savaşı
- C) I. İnönü Savaşı
- D) Balkan Savaşları

37. Babalarımız çok değil 30 yıl öncesini anlatırken cep telefonu olmadığını söylerlerdi. O dönemlerde sokaklarda jetonla çalışan büyük ankesörlü telefonlar vardı. İletişim bu araçlar sayesinde gerçekleştirilirdi. İnsanlar birbirini aramak için ankesörlü telefon ararlar, sıra beklerlerdi. Ancak günümüzde neredeyse herkesin bir cep telefonu bulunmakta ve iletişim çok daha hızlı ve kolay yapılmaktadır.

Verilen metinden aşağıdakilerden hangisine ulaşılamaz?

- A) Teknoloji zaman ilerledikçe büyük gelişme göstermektedir.
- B) Teknolojik gelişmeler hayatı kolaylaştırmaktadır.
- C) Teknolojik araçlar zamanla daha kullanışlı hale gelmiştir.
- D) Teknoloji, insanların yalnızlaşmasına neden olmaktadır.

38. Aşağıdakilerden hangisi bilinçli tüketicinin yapacağı davranışlardan değildir?

- A) İhtiyacından fazla alışveriş yapmamak
- B) Bir şey alırken son tüketim tarihine dikkat etmek
- C) Toplu ulaşım araçlarından uzak durmak
- D) Alışverişi sonunda fiş veya fatura almaya dikkat etmek

39. Ulaşım, bir yerden bir yere yük, insan taşımacılığı demektir. Ulaşım için kara, hava, deniz ve demiryolları araçları kullanılmaktadır. Ülkemizde son yıllarda ulaşım alanında yaşanan teknolojik gelişmeler kara yollarında kazaların azalmasına, hava ve demir yollarında ulaşım miktarının artmasına neden olmuştur. Ancak üç tarafı denizlerle çevrili olan ülkemizin deniz ulaşımını da daha etkin gerçekleştirmesi ulaşımında rahatlamayı arttıracaktır.

Verilen metinde ulaşım ile ilgili aşağıdakilerden hangisine değilmiştir?

- A) Kara yolu taşımacılığının önemsiz olduğuna
- B) Uçak ve trenlerle ulaşımın artışa geçtiğine
- C) Ulaşımın tanımına
- D) Deniz yolu ulaşımının geliştirilmesi gerektiğine

40. Ülkemizde bazı okullar 23 Nisan adıyla adlandırılmıştır. Çünkü bu günün ülkemiz tarihinde önemli bir yeri vardır.

Aşağıdakilerden hangisi bu tarihin hatırlattığı özel olayı ifade etmektedir?

- A) Türkiye Büyük Millet Meclisinin açılması
- B) Mustafa Kemal'in Samsun'a çıkışı
- C) Başkomutanlık Meydan Savaşının kazanılması
- D) Cumhuriyetin ilan edilmesi

1. BÖLÜM BITMİŞTİR. LÜTFEN DİĞER TESTE GEÇİNİZ.

1. Lafzatullah, Allah lafzı anlamına gelmektedir. Özel bir yazılış şekli bulunmaktadır. Tek başına Allah şeklinde yazılabilirken öncesinde başka harflerle birlikte de gelebilir.

“Lafzatullah” örneği aşağıdaki ayetlerin hangisinde **bulunmamaktadır**?

A)	بِسْمِ اللَّهِ الرَّحْمَنِ الرَّحِيمِ
B)	خَتَمَ اللَّهُ عَلَى قُلُوبِهِمْ وَعَلَى سَمْعِهِمْ وَعَلَى أَبْصَارِهِمْ غِشَاوَةٌ وَلَهُمْ عَذَابٌ عَظِيمٌ
C)	أُولَئِكَ الَّذِينَ اشْتَرُوا الضَّلَالََةَ بِالْهُدَىٰ فَمَا رَبِحَتْ تِجَارَتُهُمْ وَمَا كَانُوا مُهْتَدِينَ
D)	اللَّهُ يَسْتَهْزِئُ بِهِمْ وَيَمُدُّهُمْ فِي طُغْيَانِهِمْ يَعْمَهُونَ

2.

1	اللَّهُ لَا إِلَهَ إِلَّا هُوَ الْحَيُّ الْقَيُّومُ
2	مَنْ ذَا الَّذِي يَشْفَعُ عِنْدَهُ إِلَّا بِإِذْنِهِ
3	لَهُ مَا فِي السَّمَوَاتِ وَمَا فِي الْأَرْضِ لَا تَأْخُذُهُ سِنَّةٌ وَلَا نَوْمٌ
4	يَعْلَمُ مَا بَيْنَ أَيْدِيهِمْ وَمَا خَلْفَهُمْ
5	

Tabloda Ayetel Kürsi'nin bölümlerine yer verilmiştir. Ancak bu bölümlerde sıralamada hata bulunmaktadır. Bölümlerin doğru sıralanması için bazılarının yerlerinin değiştirilmesi gerekmektedir.

Buna göre bölümlerin doğru sıralanması için aşağıdakilerden hangisinin yapılması gerekmektedir?

- A) 2 ve 4. satırlar yer değiştirmelidir.
 B) 3 ve 5. satırlar yer değiştirmelidir.
 C) 1. Satırdaki ayet olduğu yerde bırakılmalıdır.
 D) 1. satır en sona konulmalıdır.

3.

وَلَا يُحِيطُونَ بِشَيْءٍ	مِنْ عِلْمِهِ إِلَّا بِمَا شَاءَ
وَإِلَيْكَ نَسْعَىٰ وَنَحْفِدُ	وَلَا نُؤَدُّهُ حِفْظُهُمَا

Tabloda yalnızca Ayetelkürsi'ye ait olan bölümleri boyadığımızda ortaya çıkacak görüntü aşağıdakilerden hangisidir?

A)

B)

C)

D)

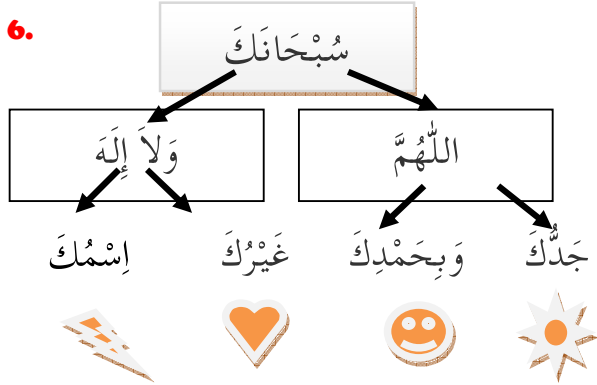
4. Aşağıdaki ayetlerden hangisi diğer seçeneklerdeki ayetlerle aynı sure içinde yer almamaktadır?

A)	وَمَا أَدْرَاكَ مَا لَيْلَةُ الْقَدْرِ
B)	لَيْلَةُ الْقَدْرِ خَيْرٌ مِنْ أَلْفِ شَهْرٍ
C)	أَلَمْ يَجْعَلْ كَيْدَهُمْ فِي تَضْلِيلٍ
D)	سَلَامٌ هِيَ حَتَّىٰ مَطْلَعِ الْفَجْرِ





5. İçinde "وَعَلَىٰ عِبَادِ اللَّهِ الصَّالِحِينَ" ifadesi aşağıdakilerden hangisinde geçmektedir?

- A) Amenerrasûlü B) Ayetül Kursi
C) Tahiyat duası D) Kunut duası

6.



Baş tarafı en üstteki kutuda verilen ifadeyle başlayan ayetin devamına göre şemada takip edilmesi gereken sıralamanın sonunda ulaşılan şekil aşağıdakilerden hangisidir?

- A)  B) 
C)  D) 

7. Televizyonda Maun suresi yüzünden okunuyordu. En son "فَوَيْلٌ لِلْمُصَلِّينَ" ayeti okunmuş ve yayın aniden kesilmişti.

Buna göre Maun suresinin aşağıdaki hangi ayeti henüz okunmamıştır?

A)	أَرَأَيْتَ الَّذِي يُكَذِّبُ بِالذِّينِ
B)	وَلَا يَحْضُرُ عَلَىٰ طَعَامِ الْمِسْكِينِ
C)	فَذَلِكِ الَّذِي يَدْعُ الْيَتِيمَ
D)	الَّذِينَ هُمْ عَنْ صَلَاتِهِمْ سَاهُونَ

8.

1	وَأَلَّا نُصَلِّيَ
2	وَنَسْجُدُ
3	نَرْجُو رَحْمَتَكَ
4	وَنَحْفِدُ
5	وَإِلَيْكَ نَسْعَى

Tabloda karışık verilen Kunut suresinin ikinci bölümüne ait olan ifadeleri doğru ezberlemek isteyen bir kimse iki bölümün sırasının yanlış olduğunu fark etti.

Buna göre ezberin doğru olması için hangi iki bölümün yerleri karşılıklı olarak değiştirmelidir?

- A) 1 - 3 B) 3 - 5
C) 2 - 4 D) 3 - 4

9.

1	وَأَمَّا السَّائِلَ فَلَا تَنْهَرْ
2	وَرَفَعْنَا لَكَ ذِكْرَكَ
3	فَإِنَّ مَعَ الْعُسْرِ يُسْرًا
4	وَالْيُسْرُ إِذَا سَجَىٰ

Verilen ayetlerden hangi ikisi aynı sure içinde ardı ardına yer almaktadır?

- A) 2 - 3 B) 1 - 3
C) 2 - 4 D) 3 - 4

10.

	NAS	NASR
وَرَأَيْتَ النَّاسَ يَدْخُلُونَ فِي دِينِ اللَّهِ أَفْوَاجًا		
مَلِكِ النَّاسِ		
مِنَ شَرِّ الْوَسْوَاسِ الْخَنَّاسِ		
فَسَبِّحْ بِحَمْدِ رَبِّكَ وَاسْتَغْفِرْهُ		

Tabloda verilen ifadelerin hangisinin Nas hangisinin Nasr suresi içinde yer aldığını işaretlememiz gerekmektedir.

Buna göre tablonun doğru işaretlenmiş hali aşağıdakilerden hangisidir?

A)	NAS	NASR	B)	NAS	NASR
		X			X
		X	X		
X			X		
X					X
C)	NAS	NASR	D)	NAS	NASR
		X			X
		X	X		
X					X
		X	X		

11. Selin, namaz dualarından birini ezbere okuyordu. Ancak duanın ... أَيُّهَا النَّبِيُّ ... bölümünden sonrasını hatırlayamadı.

Buna göre Selin, okuduğu duaya aşağıdaki hangi ifadeyi okuyarak devam etmelidir?

A)	وَالصَّلَوَاتُ
B)	وَرَحْمَةُ اللَّهِ وَبَرَكَاتُهُ
C)	وَعَلَى عِبَادِ اللَّهِ الصَّالِحِينَ
D)	وَالطَّيِّبَاتُ

12. Kureyş suresini doğru okuyan bir kimse aşağıdaki ifadelerden hangisini söylemez?

A)	لَا يَلَافِ قُرَيْشًا
B)	فَلْيَعْبُدُوا رَبَّ هَذَا الْبَيْتِ
C)	إِيْلَافِهِمْ رِحْلَةَ الشِّتَاءِ وَالصَّيْفِ
D)	ذَلِكَ الْكِتَابُ لَا رَيْبَ فِيهِ

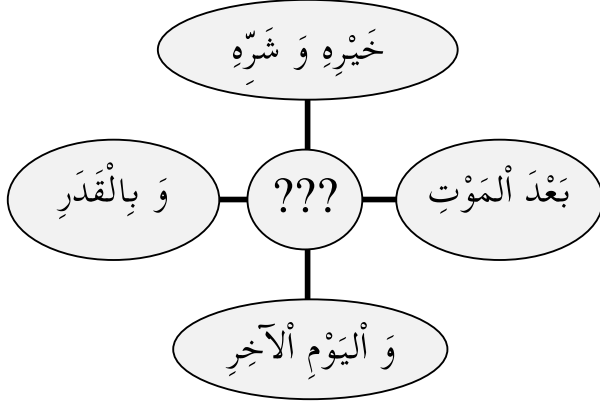
13.

SURE ADI	SON AYETİ
İHLAS
KUREYŞ
NASR

Tablodaki surelerin son ayetlerini karşılıklarına yazmamız istenseydi aşağıdakilerden hangisi bu tabloda kullanılmazdı?

A)	إِنَّ شَانِئَكَ هُوَ الْأَبْتَرُ
B)	الَّذِي أَطْعَمَهُمْ مِنْ جُوعٍ وَأَمَّنَّهُمْ مِنْ خَوْفٍ
C)	وَلَمْ يَكُنْ لَهُ كُفُوًا أَحَدٌ
D)	إِنَّهُ كَانَ تَوَّابًا

14.



İçinde geçen bazı ifadeleri yukarıdaki şemada verilen dua veya sure aşağıdakilerden hangisidir?

- A) Felak
- B) Fatiha
- C) Salli-Barik
- D) Amentü

15. Sınıfta Nas suresi okunuyordu. Öğrencilerden biri başka bir arkadaşının okuyuşunda bir ayet atladığını söyledi. Arkadaşı surenin tümünü okuyup bitirmiş ancak ... إِلَهَ النَّاسِ ... ayetinden bir sonraki ayeti okumayı unutmuştu.

Buna göre Nas suresinde aşağıdaki hangi ayet okunmamıştır?

A)	مَلِكِ النَّاسِ
B)	الَّذِي يُؤَسُّوسُ فِي صُدُورِ النَّاسِ
C)	مِنْ شَرِّ الْوَسْوَاسِ الْخَنَّاسِ
D)	مِنَ الْجَنَّةِ وَالنَّاسِ

16.

1	مِنْ شَرِّ مَا خَلَقَ
2	وَمِنْ شَرِّ غَاسِقٍ إِذَا وَقَبَ
3	وَمِنْ شَرِّ حَاسِدٍ إِذَا حَسَدَ
4	وَمِنْ شَرِّ النَّفَّاثَاتِ فِي الْعُقَدِ
5	قُلْ أَعُوذُ بِرَبِّ الْفَلَقِ

Verilenlerin doğru sıralaması aşağıdakilerden hangisidir?

- A) 5 - 1 - 2 - 3 - 4
- B) 5 - 1 - 2 - 4 - 3
- C) 5 - 2 - 1 - 4 - 3
- D) 5 - 4 - 3 - 1 - 2

17.

2	... فِي تَضَلِيلٍ
3	... أَبَابِيلٍ
4	... مِنْ سِجِّيلٍ

Tabloda Fil suresinin üç ayetinin son bölümleri yer almaktadır. Bu ayetlerin başlangıç bölümleri ise üç nokta ile gösterilmiştir.

Aşağıdakilerden hangisi tabloda verilen ayetlerin başlangıç bölümlerinden biri değildir?







A)	أَلَمْ يَجْعَلْ
B)	وَأَرْسَلَ
C)	فَجَعَلَهُمْ
D)	تَرْمِيهِمْ

18. Tenvin veya sakin nun'dan idğam mael ğunne harfleri olan ya, mim, nun ve vav'dan biri harekeli olarak gelirse tenvin veya sakin nun harfi bu harflere katılarak ğunneli şekilde şeddli gibi okunur. Ğunne, genizden gelen ses anlamına gelmektedir. Bu tecvid kuralına da İdğam-ı me'al ğunne adı verilir.

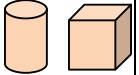


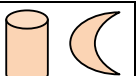
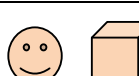
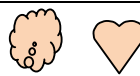


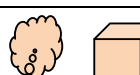

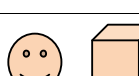

Buna göre aşağıda altı çizili bölümlerden hangisinde bu kurala ait bir örnek bulunmaktadır?

A)	الَّذِينَ هُمْ عَنْ صَلَاتِهِمْ سَاهُونَ
B)	وَتَكُونُ الْجِبَالُ كَالْعُفُوسِ
C)	وَلَمْ يَكُنْ لَهُ كُفُوًا أَحَدٌ
D)	فِيهَا سُرُرٌ مَّرْفُوعَةٌ

19.

 ذَاتَ لَهَبٍ	 مَا أَغْنَىٰ عَنْهُ
 حَمَّالَةَ الْحَطَبِ	 سَيِّضَىٰ نَارًا
 مَالُهُ وَمَا كَسَبَ	 وَامْرَأَتَهُ

Yukarıdaki tabloda Leheb suresinin ilk üç ayeti yer almaktadır. Sağ sütundaki ifadelerin devamını soldaki sütundan okuduğumuzda ifadelerin yanlarındaki şekillerin doğru eşlendirilmesi aşağıdakilerden hangisidir?

A)			
B)			
C)			
D)			

20. Kur'an-ı Kerim'in ilk indirilen ayetleri Alak suresinin ilk beş ayetidir. Bu ayetler Peygamberimiz 40 yaşındayken Mekke'de Hira mağarasında indirilmiştir.

İlk indirilen bu ayetler arasında aşağıdakilerden hangisi bulunmamaktadır?

A)	وَأَخْرَجَتِ الْأَرْضُ أَثْقَالَهَا
B)	خَلَقَ الْإِنْسَانَ مِنْ عَلَقٍ
C)	إِقْرَأْ وَرَبُّكَ الْأَكْرَمُ
D)	الَّذِي عَلَّمَ بِالْقَلَمِ

21. Aşağıdakilerden hangisinde "beledil emîn - ahseni takvîm - esfele sâfilîn" ifadelerinden biri geçmemektedir?

A)	وَهَذَا الْبَلَدِ الْأَمِينِ
B)	لَقَدْ خَلَقْنَا الْإِنْسَانَ فِي أَحْسَنِ تَقْوِيمٍ
C)	ثُمَّ رَدَدْنَاهُ أَسْفَلَ سَافِلِينَ
D)	فَمَا يُكَذِّبُكَ بَعْدُ بِالدِّينِ

22. Türkçe anlamı içinde "Bizi doğru yola ilet" duasının geçtiği suredir. Başında "Allah'a hamd" ifadesi yer almaktadır.

Bu sure aşağıdakilerden hangisidir?

- A) Fatiha
B) Maun
C) Nas
D) Fil

23. Yemen Kralı Ebrehe – Kabe'yi yıkmaya gelen ordu – sürü sürü kuşlar – pişirilmiş taşlar ifadelerinin Türkçe anlamında geçtiği sure aşağıdakilerden hangisidir?

- A) Kureyş B) Kafirun
C) Nas D) Fil

24. Peygamberimiz bir hadisinde Allah'ın adı anılmadan yemeğe başlanmamasını söylemiştir. Eğer bir kimse yemeğe başlarken bunu yapmayı unutursa yemeğin ortasında veya sonunda hatırladığında mutlaka söylemelidir.

Buna göre yemeğin başında, ortasında veya sonunda aşağıdakilerden hangisi mutlaka söylenmelidir?

- A) Tekbir B) Selam
C) Besmele D) Tevhid

25. Peygamberimize İslam'ın gönderildiği yıllardı. Bu dönemlerde gelen bir surenin son ayetinde Allah Peygamberimizden Mekkeli müşriklere şöyle söylemesini istedi: "De ki: Ey Kâfirler! Ben sizin kulluk ettiklerinize kulluk etmem. Siz de benim kulluk ettiğime kulluk edecek değilsiniz. Ben sizin kulluk ettiklerinize kulluk edecek değilim. Siz de benim kulluk ettiğime kulluk edecek değilsiniz. Sizin dininiz size, benim dinim de banadır."

Bu metnin sonunda dikkat çekilen sure aşağıdakilerden hangisidir?

- A) Fatiha B) Kafirun
C) İhlas D) Maun

26. Âmennâ billahi – Lâ raybe fih – Alâ hüden min rabbihim

Aşağıdakilerden hangisinde yukarıda verilen ifadelerden herhangi birisi bulunmamaktadır?

A)	وَمِنَ النَّاسِ مَن يَقُولُ آمَنَّا بِاللَّهِ وَبِالْيَوْمِ الْآخِرِ وَمَا هُمْ بِمُؤْمِنِينَ
B)	ذَلِكَ الْكِتَابُ لَا رَيْبَ فِيهِ
C)	تَنَزَّلُ الْمَلَائِكَةُ وَالرُّوحُ فِيهَا بِإِذْنِ رَبِّهِمْ مِنْ كُلِّ أَمْرٍ
D)	أُولَئِكَ عَلَى هُدًى مِنْ رَبِّهِمْ وَأُولَئِكَ هُمُ الْمُفْلِحُونَ

27. Aşağıdakilerden Türkçe anlamlardan hangisi, Ayetel Kürsi içinde yer almaktadır?

- A) İzni olmaksızın onun katında şefaatte bulunacak kimdir?
B) (Allahım!) Yalnız sana ibadet ederiz ve yalnız senden yardım dileriz.
C) Onu ne bir uyuklama tutabilir, ne de bir uyku.
D) Onun kürsüsü bütün gökleri ve yeri kaplayıp kuşatmıştır.

28. "Ey Rabbimiz! Bize dünyada iyilik ver! Ahirette de iyilik ver! Bizi cehennem azabından koru!" (Bakara suresi, 203. ayet)

Bu ayetteki duaya verilen isim aşağıdakilerden hangisidir?

- A) Rabbenâ
B) Tahiyat
C) Kunut
D) Salli - Barik

29. "De ki: "İnsanların Rabbine sığınırım;"

Bu ayetle başlayan sure içinde aşağıdaki ayet meallerinden hangisi bulunmamaktadır?

- A) Cinlerden ve insanlardan
- B) İnsanların İlah'ına sığınırım.
- C) İnsanların kalplerine vesvese veren sinsi vesvesecinin kötülüğünden
- D) Düşümlere üfürenlerin şerrinden

30.

وَمَا أَمَرُوا إِلَّا لِيَعْبُدُوا اللَّهَ مُخْلِصِينَ لَهُ
الدِّينَ حُنَفَاءَ وَيُقِيمُوا الصَّلَاةَ وَيُؤْتُوا الزَّكَاةَ
وَذَلِكَ دِينُ الْقِيَمَةِ

Yukarıda yüzünden okunuşu verilen ayet içinde aşağıdaki ifadelerden hangisi yer almamaktadır?

- A) İllâ İlyâ budullahe
- B) Hunefâe
- C) Fî nâri cehenneme
- D) Ve zâlike

31. Sınıfta namazda okunan kısa surelerden birinin Türkçe anlamı okunuyordu. Bir öğrenci şu ayetin anlamını söyledi: "Yetimi itip kakan işte odur."

Buna göre bu öğrencinin surenin devamında bir sonraki ayetin anlamı olarak aşağıdakilerden hangisini söylemesi gerekir?

- A) Yoksula yedirmeye özendirmeyen de odur.
- B) Yazıklar olsun o namaz kılanlara.
- C) Onlar namazlarını ciddiye almazlar.
- D) Onlar (namazlarıyla) gösteriş yaparlar.

32. Aşağıdaki kelimelerden hangisi Kelime-i Tevhid içinde bulunmamaktadır?

- A) İllallah
- B) Muhammedün
- C) Rasûlullah
- D) Eşhedü

33. "İman edip, salih ameller işleyen ve Rablerine gönülden bağlananlara gelince, işte onlar cennetliklerdir. Onlar orada ebedi kalacaklardır." (Hud suresi, 23. ayet)

Ayette cennete girmek sahip olunması gereken özellikler arasında aşağıdakilerden hangisi sayılmamıştır?

- A) Allah'ın inanmamızı istediği esaslara inanmak
- B) Bütün malını sadaka olarak vermek
- C) Güzel davranışlarda bulunmak
- D) Allah'ı kalpten sevmek, bağlanmak

34. Aşağıdakilerden hangisi Kevser suresinin Türkçe anlamı içinde yer almamaktadır?

- A) Doğrusu sana buğzeden, soyu kesik olanın ta kendisidir.
- B) O Halde, Rabbin için namaz kıl, kurban kes.
- C) Şüphesiz biz sana Kevseri verdik.
- D) Mal toplayan ve onu durmadan sayan, insanları arkadan çekiştiren kişinin vay haline

- 35.** Kunut duaları iki parçadan oluşmaktadır. Birinci kunut duası "Allahım! Yalnızca Senden yardım dileriz.", ikinci kunut duası ise "Allahım! Yalnızca Sana kulluk ederiz!" şeklinde başlamaktadır.

Altı çizili ifadeler aynı zamanda aşağıdaki hangi surenin Türkçe anlamı içinde de yer almaktadır?

- A) Fil
B) Kureyş
C) Fatiha
D) Felak

- 36.** Kur'an-ı Kerim'de 114 bulunmaktadır. Bu bölümlerde farklı sayıda bulunmaktadır. Örneğin İhlas suresinde 4 tane vardır. Ayrıca her 20 sayfasına adı verilmektedir.

Boş bırakılan yerlerden birine aşağıdakilerden hangisi getirilemez?

- A) Cüz
B) Durak
C) Ayet
D) Sure

- 37.** Mert, gece karanlıktan korkuyordu. Annesi ona Kur'an-ı Kerim'de bu korkusu için bir surenin olduğunu söyledi. Bu surede karanlıkta gelecek her türlü kötülükten Allah'a sığınmak anlatılmaktaydı. Ayrıca hasetçinin hasedinden, kıskançlığından da yine bu sureyle Allah'a sığınabileceğini söyledi.

Bu sure aşağıdakilerden hangisidir?

- A) Nasr
B) Felak
C) Fatiha
D) Fil

- 38.** "Allah'ın yardımı ve fetih (Mekke fethi) geldiğinde ve insanların bölük bölük Allah'ın dinine girdiğini gördüğünde, Rabbine hamd ederek tespihte bulun ve O'ndan başışlama dile. Çünkü O tövbeleri çok kabul edendir."

Türkçe anlamı yukarıda verilen bu sure aşağıdaki hangi ayetle başlamaktadır?

A)	الْحَمْدُ لِلَّهِ رَبِّ الْعَالَمِينَ
B)	قُلْ يَا أَيُّهَا الْكَافِرُونَ
C)	إِذَا جَاءَ نَصْرُ اللَّهِ وَالْفَتْحُ
D)	أَلَمْ تَرَ كَيْفَ فَعَلَ رَبُّكَ بِأَصْحَابِ الْفِيلِ

- 39.** Aşağıdakilerden hangisi İhlas suresinin Türkçe anlamı içinde yer almaz?

- A) Kureyş'in güvenliğini sağlamak için
B) De ki: "O, Allah'tır, bir tektir."
C) "Allah Samed'dir (Her şey O'na muhtaçtır, o, hiçbir şeye muhtaç değildir.)"
D) Ondan çocuk olmamıştır (Kimsenin babası değildir). Kendisi de doğmamıştır (kimsenin çocuğu değildir)."

- 40.** Aşağıdaki ayetlerden hangisi "binnâsiyeh" ifadesi ile bitmektedir?

A)	أَرَأَيْتَ إِنْ كَذَّبَ وَتَوَلَّى
B)	أَلَمْ يَعْلَمْ بِأَنَّ اللَّهَ يَرَى
C)	كَلَّا لَئِنْ لَمْ يَنْتَهِ لَنَسْفَعًا بِالنَّاصِيَةِ
D)	سَنَدْعُ الزَّبَانِيَةَ

SINAV SONA ERMIŞTİR. LÜTFEN CEVAPLARINIZI KONTROL EDİNİZ.

hafiziho.meb.gov.tr



SEVİYE BELİRLEME SINAVI

hafiziho.meb.gov.tr



Sınav sonuçları ve iletişim:
hafiziho.meb.gov.tr

KONYA 2018 HAFİZİHO CEVAP ANAHTARI

1. BÖLÜM

Soru No	A KİTAPÇIĞI	B KİTAPÇIĞI
1	A	C
2	B	B
3	D	B
4	A	D
5	C	A
6	D	B
7	C	D
8	B	A
9	B	C
10	D	D
11	C	A
12	C	C
13	B	B
14	D	C
15	A	C
16	D	C
17	A	B
18	C	D
19	B	A
20	C	D
21	C	A
22	A	D
23	D	D
24	C	A
25	B	C
26	A	C
27	D	A
28	D	D
29	A	C
30	C	B
31	C	B
32	A	D
33	B	C
34	D	A
35	C	A
36	B	C
37	D	A
38	C	B
39	A	D
40	A	C

2. BÖLÜM

Soru No	A KİTAPÇIĞI	B KİTAPÇIĞI
1	C	C
2	A	B
3	B	D
4	C	B
5	C	A
6	B	B
7	D	B
8	B	D
9	A	A
10	B	D
11	B	C
12	D	B
13	A	C
14	D	D
15	C	B
16	B	A
17	C	D
18	D	A
19	B	C
20	A	A
21	D	B
22	A	C
23	D	D
24	C	C
25	B	A
26	C	D
27	B	B
28	A	D
29	D	C
30	C	B
31	A	B
32	D	C
33	B	A
34	D	C
35	C	D
36	B	C
37	B	B
38	C	C
39	A	B
40	C	A

hafizihomeb.gov.tr