



A

T.C.
MİLLİ EĞİTİM BAKANLIĞI**ÖRGÜN EĞİTİMLE BİRLİKTE HAFIZLIK PROJESİ**
SEVİYE BELİRLEME SINAVI
(04 MAYIS 2019 - 14.00)

Adı-Soyadı :

Okulu :

Sınıf-No :

ALANLAR	SORU SAYISI	TOPLAM SORU SAYISI	SÜRE
1. BÖLÜM	40	80	100 DAKİKA
2. BÖLÜM	40		

SINAVDA UYULACAK KURALLAR

1. Sınav süresince gözetmenlerin uyarılarına dikkat ediniz.
2. Sınav süresince kitap, sözlük veya elektronik araçları yanınızda bulundurmuyunuz.
3. Cevap kâğıdınızdaki bilgilerin doğruluğunu kontrol ediniz.
4. Kitapçık üzerindeki ad-soyad, okul ve sınıf-no bilgilerinizi yazmayı unutmayınız.
5. Cevap kâğıdınız üzerinde bulunan kitapçık türünü doğru kodladığınızdan emin olunuz.
6. TC Kimlik numaranızı cevap kâğıdı üzerindeki alana dikkatlice kodlayınız.
7. Cevap kâğıdı üzerinde kurşun kalemle işaretleme yapınız. Değiştirmek istediğiniz cevabınızı yumuşak silgi ile iz bırakmadan siliniz. Cevap kâğıdınızı buruşturmayınız ve katlamayınız.
8. Soru kitapçığınızı sınav başlamadan kontrol ediniz. Eksik sayfa varsa değiştirilmesini isteyiniz.
9. Sınavda başkalarıyla konuşmayınız, kopya çekmeyiniz. Bu gibi durumlarda sınavınız geçersiz sayılacaktır.
10. Yanlış cevaplarınız dikkate alınmadan sadece doğru cevaplarınız üzerinden puanlama yapıla caktır. Yanlış cevaplar doğru cevapları götürmemektedir.
11. Sınav bitiminde cevap kâğıdınızı teslim etmeyi unutmayınız. Her sorunun bir doğru cevabı bulunmaktadır.

BAŞLAYINIZ DENİLMEYEN KİTAPÇIĞINIZI AÇMAYINIZ.

1. Aşağıdaki cümlelerin hangisinde iki-lemeler zıt (karşıt) anlamlı sözcüklerden meydana gelmemiştir?

- A) Masalların özellikleri hakkında az çok bilgim var.
 B) Aşağı yukarı beş saattir seni burada bekliyorum.
 C) Yağmurun ince ince yağdığını yeni fark ettim.
 D) Düşünümüze uzak yakın tüm akrabalarımızı davet ettik.

2. Öğretmenin tavsiyesi üzerine kendi sözlüğünü oluşturmak isteyen Aleyna, okuduğu parçada geçen bazı sözcükleri not etmiştir.

-arma - şahane -abdal
 - neşe -kanaat - kasırga

Verilen bilgilere göre Aleyna'nın sözlüğünde baştan 3. sırada yer alması gereken sözcük aşağıdakilerden hangisidir?

- A) neşe
 B) şahane
 C) kanaat
 D) kasırga

3. Aşağıdaki cümlelerin hangisinde yazım yanlışı vardır?

- A) Yaptığı iyilikler de hep Allah rızasını gözetirdi.
 B) Ayşe Teyze'nin hasta olması hepimizi üzdü.
 C) Tam yirmi sekiz gün sonra ailesine kavuştu.
 D) Biz ki üç kıtaya hükmetmiş bir neslin torunlarıyız.

4. (1) Bir zamanlar zengin bir adam varmış. (2) Üç kızı olan bu adamın kızlarının ikisi son derece kendini beğenmiş kızlarmış. (3) Ama üçüncüsü hem iyi kalpli hem de sevecenmiş. (4) Bir gün küçük bir fare kızlara babalarının gemisinin şiddetli fırtınada battığı haberini getirmiş.

Metinde numaralandırılmış cümlelerin hangisinde hayal ürünü bir ifade vardır?

- A) 1 B) 2 C) 3 D) 4

5. Muhammet Bey, Türkçe dersinde 4-A sınıfının tahtasına aşağıdaki cümleyi yazmış ve öğrencilerinden yay ayrıç içerisine uygun noktalama işaretlerini yerleştirmelerini istemiştir. Fakat Halit noktalama işaretlerini yerleştirirken bir hata yapmıştır.

Bulutsuz bir gecede gökyüzündeki yıldızları izliyordum(.) Çoban Yıldızı(')nın hangi yönü gösterdiğini hatırlayamadım. Konuyu annee açtığımda şu cevabı aldım(;) - Elbette Kutup Yıldızı kuzeyi(,) Çoban Yıldızı ise güneyi gösterir.

Halit'in yukarıdaki cümlelerde kullandığı noktalama işaretlerinden hangisi yanlıştır?

- A) Nokta
 B) Noktalı virgül
 C) Virgül
 D) Kesme işaret

6. Aşağıdaki cümlelerin hangisi tamamı gerçek (temel) anlamlı sözcüklerden oluşmuştur?

- A) Köye giderken toprak bir yola girdik.
 B) Dün başıma gelenleri hala aklım almıyor.
 C) Birkaç gün içinde yeni arkadaşlarıma ısındım.
 D) Az daha yürürsem bacaklarım kopacak.

7. Son günlerde yaşanan dil sorunlarından en tehlikeli olanı, yabancı sözcüklerin dilimize girip yerleşmesidir. Evimizdeki araçlardan, cadde-sokak, mağaza adlarına kadar birçok yabancı sözcük günlük hayatta kullandığımız dile kadar yerleşmiş. Her yıl ortalama 24 dilin yok olduğu dünyada Türkçemizin de bu diller arasında yer almasını istemiyorsak bu tehlikenin farkında olup dilimize sahip çıkmalıyız.

Yazarın yukarıdaki metinde bahsettiklerinden hangi dersi çıkarmalıyız?

- A) Türkçe ismi olmayan araçları evimize sokmamalıyız.
B) Alışveriş yaparken yerli ürünleri tercih etmeliyiz.
C) Yok olan dilleri öğrenip konuşmalı, yok olmalarına göz yummamalıyız.
D) Yabancı sözcüklerin dilimize girmesini engellemeli, dilimize sahip çıkmalıyız.

8. Aşağıdaki cümlelerin hangisinde deyim, anlamına uygun olarak kullanılmamıştır?

- A) Daldan dala konmayı bırak da adam gibi bir işe gir.
B) Seni buluncaya kadar akla karayı seçtim.
C) Aile büyüklerinizi el üstünde tutmaya özen gösterin.
D) Kafamı dinlemek için gece gündüz çalıştım, çok yoruldum.

9. Yapım ekleri, eklendiği sözcükten yeni bir sözcük türetir. Yapım eki alan sözcük yeni bir anlam kazanır.

Aşağıdaki altı çizili kelimelerden hangisi türemiş bir sözcüktür?

- A) Çocuklar bu küçük kediyi yolda bulmuşlar.
B) Mavi gömleğimi bugün giyeceğim.
C) Telefonun kulaklığını çıkarıp dolaba bıraktı.
D) Bu ayrılık herkesi derinden üzdü.

10. Aşağıda bazı cümleler ve bu cümlelere ait anlam özellikleri eşleştirilmiştir.

Eşleştirmelerin hangisinde hata yapılmıştır?

	Cümle	Anlam özelliği
A)	Şiirinde eski günlerine olan özleminden bahsetmiş.	Örneklendirme
B)	Topladığımız biberler zehir gibi acıymış.	Benzetme
C)	Sibiryaya kaplanları diğer kaplanlardan çok daha iridir.	Karşılaştırma
D)	Birçok kelimenin anlamını bilmediği için okuduğu metni anlayamadı.	Neden - Sonuç

11. Kalanlı bir bölme işleminde bölen 13, bölüm 24 ise bölünen en fazla kaç olabilir?

- A) 326
B) 319
C) 324
D) 313

12. $4 - 7 - 13 - 25 - 49 - ?$

Yukarıdaki sayı örüntüsünde "?" yerine gelecek sayıyı oluşturan rakamların sayı değerlerinin toplamı kaçtır?

- A) 97
B) 48
C) 12
D) 16

13. Aşağıdaki sayılardan hangisi en yakın onluğa yuvarlandığında sonuç 2400 olur?

- A) 2412
- B) 2397
- C) 2407
- D) 2384

14.

A-3
15

sayısının basit kesir olabilmesi için A sayısı en fazla hangi doğal sayı değerini alabilir?

- A) 17
- B) 14
- C) 18
- D) 15

15. OLASILIK \rightarrow 12345256 şeklinde kodlama verilmiştir.

Bu kodlamaya göre KAS x AL çarpımının sonucu kaçtır?

- A) 20288
- B) 20576
- C) 14582
- D) 14789

16. Emine parasının $\frac{5}{18}$ ini Halime'ye, $\frac{11}{18}$ ini de Zeynep'e vermiştir.

Emine'nin başlangıçta 90 lirası olduğuna göre; Zeynep'e Halime'den kaç lira fazla vermiştir?

- A) 20
- B) 25
- C) 30
- D) 35

17. 5000 metrelik bir pistte koşan Ahmet, Bilal, Cemil ve Davut koşuyu sı-

rası ile $\frac{1}{15}$ $\frac{1}{10}$ $\frac{1}{6}$ $\frac{1}{12}$ saatte tamamladıklarına göre koşuyu hangi yarışmacı kazanmıştır?

- A) Ahmet
- B) Bilal
- C) Cemil
- D) Davut

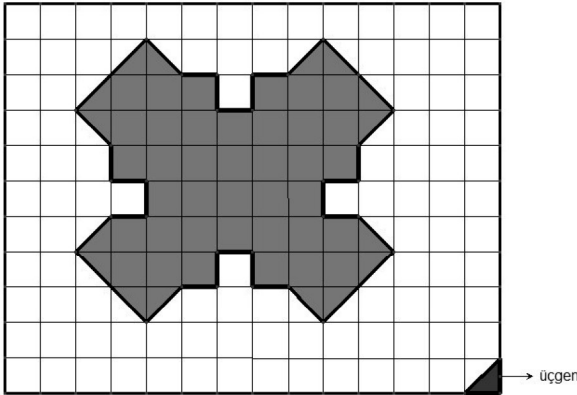
18. 7A83A32 sayısında A rakamlarının basamak değerlerinin farkı 594000 ise A kaçtır?

- A) 4
- B) 5
- C) 6
- D) 7

19. Abdullah'ın bindiği otobüs Kahramanmaraş'a gitmek üzere saat 22:42'de hareket ediyor. Yolculuk 6 saat 25 dakika sürdüğüne göre Abdullah Kahramanmaraş'a saat kaçta varmıştır?

- A) 05:07
- B) 05:17
- C) 04:17
- D) 04:07

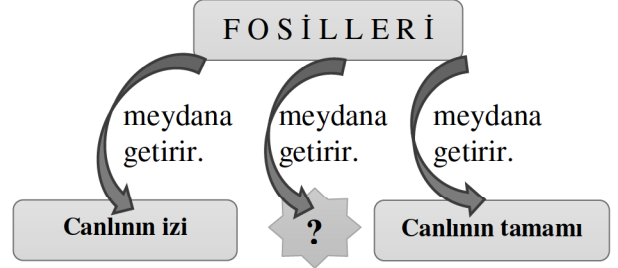
20.



Yukarıdaki taralı bölgeyi oluşturabilmek için alt köşedeki üçgenden kaç tane kullanılmalıdır?

- A) 54
- B) 70
- C) 92
- D) 35

21.



Bu etkinlik şemasında " ? " yerine aşağıdakilerden hangisi getirilemez?

- A) Canlıya ait kemik veya parçalar
- B) Bitki yaprakları
- C) Kayaçlar
- D) Hayvan artıkları

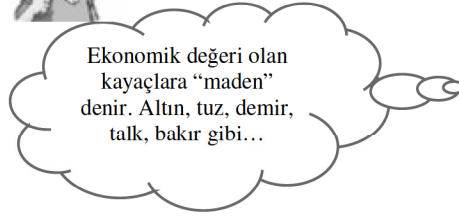
22.

Ahmet



Ekonomik değeri olan kayaçlara "maden" denir. Taş, toprak, demir, kömür gibi...

Ali



Ekonomik değeri olan kayaçlara "maden" denir. Altın, tuz, demir, talk, bakır gibi...

Madenlerle ilgili bilgi veren Ahmet ve Ali'nin ifadelerinde bir eksiklik olduğunu fark eden Salih'in bu eksikliği düzeltme cümlesi aşağıdakilerden hangisi gibi olabilir?

- A) Her ikisi de tanımını düzeltmeli
- B) Ahmet örneklerinin bir kısmı değiştirmeli
- C) Ali örneklerinin tamamını değiştirmeli
- D) Ali örneklerinden talkı çıkarmalı

23. Vitaminlerle ilgili;

- I. Vücudumuzda düzenleyici olarak görev yaparlar.
- II. Hastalıklara karşı direnç kazandırır.
- III. Enerji kaynağı olarak kullanılırlar.

Verilen bilgilerden hangileri doğrudur?

- A) Yalnız I
- B) Yalnız II
- C) I ve II
- D) I, II ve III

24.







Yukarıda Dünya üzerinde bazı yerleşim merkezleri nokta ve harflerle gösterilmiştir.

Bu merkezlerde yaşayan kişilerin Güneş'in doğuşunu seyretme sırası (öncelikli) hangi şıktaki gibi olması gerekir?

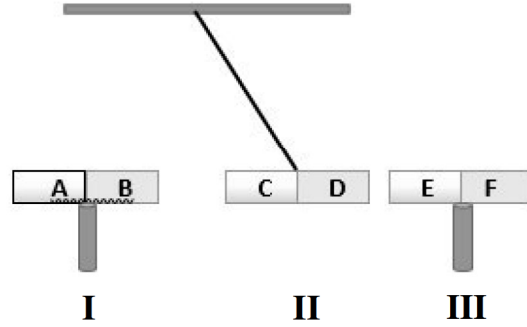
- A) K - N - M
- B) M - N - K
- C) K - M - N
- D) N - K - M

25. Şamil ve bir grup arkadaşı sınıfta yaptıkları bir deneyde makarna üzerine iyot çözeltisi damlatıyorlar. Bir süre beklediklerinde mavi-mor renk oluştuğunu gözlemliyorlar.

Buna göre öğrenciler aynı işlemi aşağıdaki besinlerden hangisinde yaparlarsa benzer sonuç elde ederler?

- A)  Köfte
- B)  Pilav
- C)  Balık
- D)  Tavuk

26.

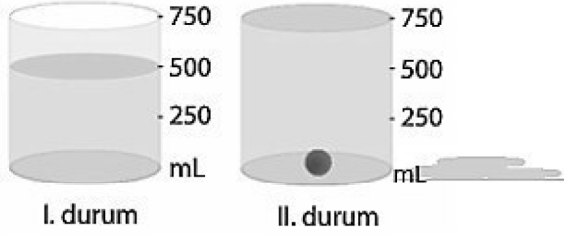


Yukarıdaki düzenekte I ve III numaralı mıknatıslar sabitlenmiş II numaralı mıknatısın ise hareket etmesi sağlanmıştır.

II numaralı mıknatısın hareket etmesiyle oluşan son durum yukarıdaki gibi olduğuna göre aşağıdaki ifadelerden hangisi doğrudur?

- A) E ve A aynı kutuplardır.
- B) F ve C aynı kutuplardır.
- C) A ve D zıt kutuplardır.
- D) B ve D zıt kutuplardır.

27.

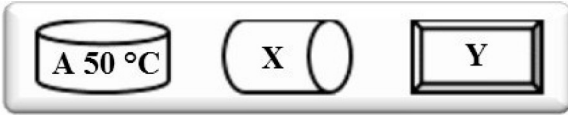


İçerisinde bir miktar su bulunan (I. durum) dereceli silindire bir bilye atılıyor (II. durum).

Bilye atıldıktan sonra 100 ml. su taşıracağına göre aşağıdakilerden hangisi yanlıştır?

- A) Bilyenin hacmi 100 ml'dir.
 B) Suyun miktarı 500 ml'dir.
 C) Bilyenin hacmi suyun hacminden 150 ml eksiktir.
 D) Taşın sıvının hacmi bilyenin hacminden 250 ml eksiktir.

28.

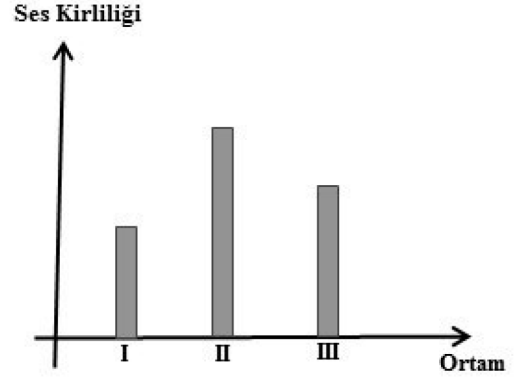


Sıcaklığı $50\text{ }^{\circ}\text{C}$ olan bir **A** maddesi **X** maddesi ile temas ettiğinde sıcaklığı artıyor. **Y** maddesi **X** maddesi ile temas ettiğinde ise sıcaklığı azalıyor.

Buna göre X ve Y maddelerinin sıcaklıkları aşağıdakilerden hangisi gibi olabilir?

- | | X | Y |
|----|----|----|
| A) | 45 | 60 |
| B) | 48 | 52 |
| C) | 55 | 65 |
| D) | 60 | 55 |

29.



Yukarıda farklı ortamlara ait ses kirliliği verilmiştir. Bu ortamlar aşağıdakilerden hangisi gibi olabilir?

	I	II	III
A)	Okul	İnşaat	Kütüphane
B)	Kütüphane	Okul	İnşaat
C)	Konser	Sınıf	Marangoz
D)	Kütüphane	Marangoz	Okul

30. Aşağıdaki tabloda verilen karışımları ayırmak için hangi yöntemi kullanıyorsa onun altındaki kutuyu boyayacaktır.

NO	KARIŞIMLAR	SÜZME	ELEME	MIKNATIS
1	Nohut-Un	K	H	L
2	Saman-Demir tozu	P	U	A
3	Ayran-Nane	F	Z	T
4	Su-Odun talaşı	I	U	E
5	Raptiye-Kum	M	A	Z

Tablo doğru bir şekilde doldurulduğunda numara sırasına göre yukarıdan aşağı hangi kelime elde edilir?

- A) HAFIZ
 B) HAKEM
 C) KAZIM
 D) LAZIM

31. Tuğba, sınıfa girdiğinde arkadaşı Hayrunnisa'nın sırasında tek başına oturduğunu fark etmiş ve onu dışarıda oynamaya davet etmiştir. Hayrunnisa ise çok üzgün olduğunu söylemiş ve oynamak istemediğini kibarca anlatmıştır. Bunun üzerine Tuğba'da arkadaşının oynamak istemesine kızarak sınıfı terk etmiştir.

Yukarıdaki anlatıma göre Hayrunnisa ve Tuğba'nın arasındaki sorun neden kaynaklanmaktadır?

- A) Hayrunnisa'nın kaba tavrından
B) Tuğba'nın empati yapmamasından
C) Hayrunnisa'nın Tuğba'yı sevmemesinden
D) Tuğba'nın hiçbir arkadaşı tarafından sevilmemesinden

32. I-Dalye

II-Bowling

III-Golf

IV- Topaç Çevirme

Yukarıda verilen oyunlardan hangileri geleneksel çocuk oyunlarımız arasında yer alır?

- A) Yalnız IV
B) I ve II
C) I ve IV
D) II ve III

33. Şerife Bacı, Kurtuluş Savaşı yıllarında cephede savaşan askerlerimiz için kağıyla mermi taşımıştır. Çok zor şartlarda geçen yolculuğunda karlı havaya rağmen yılmamış büyük bir gayret göstermiştir. Şerife Bacı, ısınmak için yanına aldığı yorganını ise ıslanmamaları için mermilerin üzerine örtmüştür. Zorlu yolculuktan sonra Şerife Bacı mermileri teslim edeceği askeri birliğin yakınlarına kadar gelmiş; ancak donarak hayatını kaybetmiştir.

Şerife Bacı ile ilgili aşağıda verilenlerden hangisi yanlıştır?

- A) Fedakârdır
B) Mücadelecidir
C) Vatanseverdir
D) Bencildir

34. 30 Ekim 1918 yılında imzalanan Mondros Ateşkes Antlaşması'ndan sonra Osmanlı Devleti'nin toprakları İngiltere, Fransa ve İtalya tarafından işgal edilmeye başlanmıştır. Mustafa Kemal ise bu işgaller karşısında büyük bir kararlılıkla "Geldikleri gibi giderler" diyerek tarihi bir cevap vermiştir.









Mustafa Kemal'in sözüne bakarak hangisini söyleyebiliriz?

- A) İşgalcilerin yurdumuzdan kovulacağına dair inancı vardır.
B) İşgaller karşısında ümitsiz durumdadır.
C) Vatan için yapabileceği bir şey olmadığını düşünmektedir.
D) Ülkenin geleceğinin karanlık olduğu fikrine ulaşmıştır.

35. Akif Emre, Konya ile ilgili hava durumu bilgilerini izlerken sunucu şu bilgileri vermiştir:

"Konya'da Pazar günü, gündüz hava 17 °C ve parçalı bulutlu; gece ise 3 °C ve yağmurlu olacaktır."

Buna göre Konya ile ilgili hava durumu hangi tabloda doğru verilmiştir?

	GÜNDÜZ	GECE
A)	-3°C 	17°C 
B)	17°C 	3°C 
C)	17°C 	3°C 
D)	-3°C 	17°C 

36. Talha ve arkadaşları Konya'da kamp kurdukları bölgede yönlerini bulabilmek için yere bir çubuk dikmişlerdir. Çubuğun tam öğle vaktinde yere düşen gölgesine bakmışlar ve gölgenin tam aksi yönünde giderek hedefledikleri noktaya ulaşmışlardır.

Yukarıdaki bilgilere bakarak Talha ve arkadaşları hangi yöne doğru gitmişlerdir?

- A) Güney B) Kuzey
C) Doğu D) Batı

37. Merve: Zonguldak'ta yaşıyorum ve babam taşkömürü yataklarında çalışıyor.

Feyza: Aydın'da yaşıyoruz ve burada bahçemizde zeytin yetiştiriyoruz.

Betül: Babam meyve suyu fabrikasında gıda mühendisi olarak görev yapıyor.

Merve, Feyza ve Betül'ün ailesi hangi ekonomik faaliyetlerde çalışmaktadır?

- | <u>Merve</u> | <u>Feyza</u> | <u>Betül</u> |
|---------------|--------------|--------------|
| A) Sanayi | Tarım | Madencilik |
| B) Madencilik | Sanayi | Ticaret |
| C) Ticaret | Madencilik | Sanayi |
| D) Madencilik | Tarım | Sanayi |

38. Ömer ve annesi alışveriş listelerindeki içeceği almak için ürünü incelemeye başlamışlar, ikilinin arasında aşağıdaki konuşma geçmiş ve ürünü almaktan vazgeçmişlerdir.

Ömer: Anne bu içekte renklendirici, koruyucu madde gibi sağlığa zararlı şeyler var.

Anne: Aynı zamanda bu ürün Türkiye'de üretilmemiş, yerli üretim değilmiş.

Ömer ve annesi bu bilgileri içeceğin hangi kısımlarına bakarak anlamışlardır?

- A) Ürünün son kullanma tarihi ve markası
B) Ürünün içindekiler bölümü ve barkod numarası
C) Ürünün rengi ve ambalajının sağlamlığı
D) Ürünün üretim tarihi ve fiyatı

39. Sınıftaki fiziki haritayı inceleyen Selim, yaşadığı yerin koyu kahverengiyle gösterildiğini gördü. Selim, bunun üzerine yaşadığı ilin neden koyu kahverengiyle gösterildiğini öğretmenine sormuştur.

Anlatılanlardan yola çıkarak Selim'in öğretmeni hangi cevabı vermiştir?

- A) Yaşadığımız yerde ormanlık alanlar az olduğu için
B) Yaşadığımız yerde dağlık alan ve yükselti fazla olduğu için
C) Yaşadığımız yerde sık sık deprem afeti görüldüğü için
D) Yaşadığımız yerde çok fazla tarım ve hayvancılık yapıldığı için

40. Dünyada yaşanan savaşlardan milyonlarca insan olumsuz etkileniyor. Bu savaşlarda masum binlerce insan hayatını kaybederken, kimi sakat kalmakta, kimi de ülkesinden uzakta yaşamaya mahrum bırakılmaktadır. Yemen'de yaşanan iç savaş sonucunda da hastalıklar ve açlık nedeniyle 400 bine yakın çocuk hayati risk altında; aynı zamanda binlerce çocuk ise okullarına gidememektedir.

Metinde Yemen'deki çocukların hangi haklardan mahrum oldukları vurgulanmamıştır?

- A) Dinlenme
B) Beslenme
C) Sağlık
D) Eğitim

1. BÖLÜM BİTMİŞTİR. LÜTFEN DİĞER TESTE GEÇİNİZ.

1.

أَلَيْسَ اللَّهُ بِأَحْكَمِ الْحَاكِمِينَ ﴿٨﴾

Verilen ayetteki tecvid kuralları ile ilgili aşağıdakilerden hangisi doğrudur?

- A) İçinde lafzatullah örneği yoktur.
B) Sonunda meddi munfasıl bulunmaktadır.
C) İlk kelimesinde ihfa ve ızhar vardır.
D) Altı çizili kelimedede meddi tabi vardır.

2. Ihfa: Tenvin veya sakin nun'dan sonra ihfa harfleri olarak bilinen harflerden biri gelirse tenvin veya sakin nun ğunneli olarak okunur. Buna ihfa adı verilir.

Aşağıdaki altı çizili bölümlerden hangisinde ihfa örneği bulunmaktadır?

A)	سَنَدُّعُ الرَّبَّانِيَّةِ
B)	كَلَّا لَئِن لَّمْ يَنْتَه لَنَسْفَعًا بِالنَّاصِيَةِ
C)	أَلَمْ يَعْلَم بِأَنَّ اللَّهَ يَرَى
D)	أَرَأَيْتَ إِنْ كَذَّبَ وَتَوَلَّى

3.

1	إِقْرَأْ بِاسْمِ رَبِّكَ الَّذِي خَلَقَ
2	خَلَقَ الْإِنْسَانَ مِنْ عَلَقٍ
3	الَّذِي عَلَّمَ بِالْقَلَمِ
4	إِقْرَأْ وَرَبُّكَ الْأَكْرَمُ
5	عَلَّمَ الْإِنْسَانَ مَا لَمْ يَعْلَم

Tabloda Alak suresinin ayetleri verilmiştir. Ancak bu ayetlerin sıralanışında bir yanlışlık yapılmıştır.

Buna göre ayetlerin doğru sıralanması için aşağıdakilerden hangisinin yapılması gerekmektedir?

- A) 2 ve 4. satırlar yer değiştirmelidir.
B) 3 ve 4. satırlar yer değiştirmelidir.
C) 2. Satırdaki ayet olduğu yerde bırakılmalıdır.
D) 5. satır en başa getirilmelidir.

4.

مَا أَغْنَىٰ عَنْهُ مَالُهُ وَمَا كَسَبَ	إِيْلَافِهِمْ رِحْلَةَ الشِّتَاءِ وَالصَّيْفِ
سَيَصْلَىٰ نَارًا ذَاتَ لَهَبٍ	الَّذِي جَمَعَ مَالًا وَعَدَّدَهُ

Tabloda yalnızca Lehep suresine ait bölümleri boyadığımızda ortaya çıkacak görüntü aşağıdakilerden hangisidir?

A)

B)

C)

D)

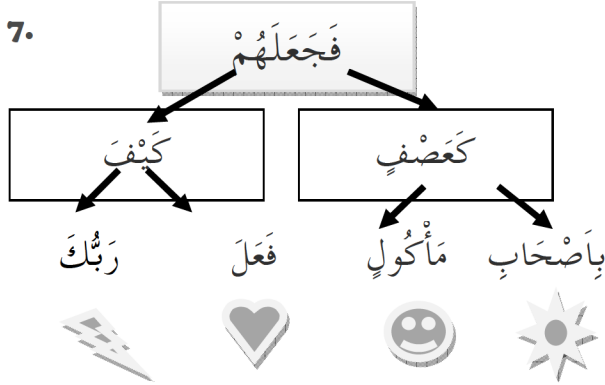
5. Aşağıdaki ayet bölümlerinden hangisi diğer seçeneklerdeki bölümlerle aynı sure içinde yer almamaktadır?

A)	مِنْ شَرِّ الْوَسْوَاسِ الْخَنَّاسِ
B)	وَرَأَيْتَ النَّاسَ يَدْخُلُونَ
C)	فِي دِينِ اللَّهِ أَفْوَاجًا
D)	فَسَبِّحْ بِحَمْدِ رَبِّكَ وَاسْتَغْفِرْهُ

6. İçinde "خَيْرِهِ وَ شَرِّهِ مِنَ اللَّهِ تَعَالَى" ifadesi aşağıdakilerden hangisinde geçmektedir?

- A) Kunut duası B) Ayetül Kursi
C) Tahiyat duası D) Amentü duası

7.



Baş tarafı en üstteki kutuda verilen ifadeyle başlayan ayetin devamına göre şemada takip edilmesi gereken sıralamanın sonunda ulaşılan şekil aşağıdakilerden hangisidir?

- A) B)
C) D)

8.

مَالِكِ يَوْمَ الدِّينِ

Teravih namazında cemaate açıktan okuyan bir imam en son yukarıdaki ayeti okumuştur.

Buna göre imam aşağıdakilerden hangisini önceden okumuş olmalıdır?

A)	الرَّحْمَنِ الرَّحِيمِ
B)	إِيَّاكَ نَعْبُدُ وَإِيَّاكَ نَسْتَعِينُ
C)	إِهْدِنَا الصِّرَاطَ الْمُسْتَقِيمَ
D)	صِرَاطَ الَّذِينَ أَنْعَمْتَ عَلَيْهِمْ

9.

1	وَالَّذِينَ وَالزَّيْتُونَ
2	وَطُورِ سِينِينَ
3	ثُمَّ رَدَدْنَاهُ أَسْفَلَ سَافِلِينَ
4	لَقَدْ خَلَقْنَا الْإِنْسَانَ فِي أَحْسَنِ تَقْوِيمٍ
5	وَهَذَا الْبَلَدِ الْأَمِينِ

Tin suresinin ilk beş ayetinin doğru sıralanması için hangi iki ayetin yerleri karşılıklı olarak değiştirmelidir?

- A) 1 - 3 B) 3 - 5
C) 2 - 4 D) 3 - 4

10.

1	فَلْيَعْبُدُوا رَبَّ هَذَا الْبَيْتِ
2	وَرَفَعْنَا لَكَ ذِكْرَكَ
3	الَّذِينَ هُمْ عَنْ صَلَاتِهِمْ سَاهُونَ
4	وَاللَّيْلِ إِذَا سَجَى

Verilen ayetlerden hangi ikisi Kureyş ve Maun sureleri içinde yer almaktadır?

- A) 2 - 3 B) 2 - 4
C) 1 - 3 D) 3 - 4

11.

	KEVSER	İHLAS
لَمْ يَلِدْ وَلَمْ يُولَدْ		
فَصَلِّ لِرَبِّكَ وَأَنْحَرِ		
إِنَّ شَانِئَكَ هُوَ الْأَبْتَرُ		
وَلَمْ يَكُنْ لَهُ كُفُوًا أَحَدٌ		

Tabloda verilen ifadelerin hangisinin Kevser hangisinin İhlas suresi içinde yer aldığını işaretlememiz gerekmektedir.

Buna göre tablonun doğru işaretlenmiş hali aşağıdakilerden hangisidir?

A)

KEVSER	İHLAS
	X
	X
X	
X	

B)

KEVSER	İHLAS
X	
	X
X	
	X

C)

KEVSER	İHLAS
	X
	X
X	
	X

D)

KEVSER	İHLAS
	X
X	
X	
	X

12. Selin, namaz dualarından birini ezbere okuyordu. Ancak duanın ... وَنُثْنِي عَلَيْكَ الْخَيْرَ ... bölümünden sonrasını hatırlayamadı.

Buna göre Selin, okuduğu duaya aşağıdaki hangi ifadeyi okuyarak devam etmelidir?

A)	وَنَتَوَكَّلُ عَلَيْكَ
B)	وَنَخْلَعُ وَنَتْرُكُ
C)	كُلَّهُ نَشْكُرُكَ
D)	وَلَا نَكْفُرُكَ

13. Tekasür suresini doğru okuyan bir kimse aşağıdaki ifadelerden hangisini söylemez?

A)	فِيهَا كُتِبَ قِيمَةٌ
B)	كَلَّا سَوْفَ تَعْلَمُونَ
C)	كَلَّا لَوْ تَعْلَمُونَ عِلْمَ الْيَقِينِ
D)	لَتَرَوُنَّ الْجَحِيمَ

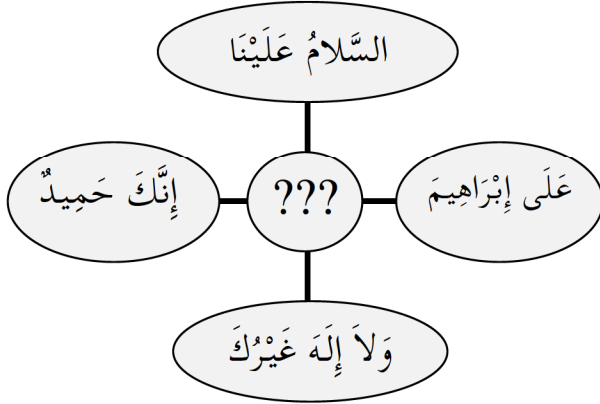
14.

SURE ADI	AYET
FİL
KUREYŞ
MAUN

Tablodaki surelerin içinden bir ayet karşlarına yazmamız istenseydi aşağıdakilerden hangisi bu tabloda kullanılamazdı?

A)	وَأَرْسَلَ عَلَيْهِمْ طَيْرًا أَبَابِيلَ
B)	الَّذِينَ هُمْ عَنْ صَلَاتِهِمْ سَاهُونَ
C)	الَّذِي أَطْعَمَهُمْ مِنْ جُوعٍ وَأَمَّنَّهُمْ مِنْ خَوْفٍ
D)	مَا أَغْنَىٰ عَنْهُ مَالُهُ وَمَا كَسَبَ

15.



Şema da bazı dua veya surelerin içinde geçen bölümler yer almaktadır. Buna göre şema içinde aşağıdakilerden hangisine ait bir bölüm yer almamaktadır?

- A) Subhaneke
- B) Amentü
- C) Tahiyyat
- D) Salli-Barik

16. Bir öğrenci sınıfta Kur'an okuyordu. Okuma sırasında ... مِنْ شَرِّ مَا خَلَقَ ... ayetinden sonra gelen bölümü hatırlayamadı.

Öğrencinin hatırlayamadığı ayet aşağıdakilerden hangisidir?

A)	فِي جِيدِهَا حَبْلٌ مِنْ مَسَدٍ
B)	رَسُولٌ مِنَ اللَّهِ يَتْلُوا صُحُفًا مُطَهَّرَةً
C)	وَمِنْ شَرِّ غَاسِقٍ إِذَا وَقَبَ
D)	فَسَبِّحْ بِحَمْدِ رَبِّكَ وَاسْتَغْفِرْهُ إِنَّهُ كَانَ تَوَّابًا

17.

1	إِنَّ مَعَ الْعُسْرِ يُسْرًا
2	فَإِذَا فَرَغْتَ فَانصَبْ
3	الَّذِي أَنْقَضَ ظَهْرَكَ
4	فَإِنَّ مَعَ الْعُسْرِ يُسْرًا
5	وَرَفَعْنَا لَكَ ذِكْرَكَ

Verilenlerin doğru sıralaması aşağıdakilerden hangisidir?

- A) 3 - 5 - 4 - 1 - 2
- B) 5 - 1 - 2 - 4 - 3
- C) 4 - 2 - 3 - 1 - 5
- D) 2 - 1 - 5 - 3 - 4

18.

...	وَلَا الضَّالِّينَ
...	فِي صُدُورِ النَّاسِ
...	فِي دِينِ اللَّهِ أَفْوَاجًا

Tabloda üç farklı suresinin üç ayetinin son bölümleri yer almaktadır. Bu ayetlerin başlangıç bölümleri ise üç nokta ile gösterilmiştir.

Aşağıdakilerden hangisi tabloda verilen ayetlerin başlangıç bölümlerinden biri değildir?

A)	الَّذِي يُوسُوسُ
B)	صِرَاطَ الَّذِينَ أَنْعَمْتَ عَلَيْهِمْ
C)	وَرَأَيْتَ النَّاسَ
D)	الْمَ يَجْعَلُ

19. Sâkin Mîm ile harekeli Bâ harfleri bir araya geldiğinde "Dudak İhfa"sı yapılır. Bu uygulamada Mîm harfinin sesi genizde güzel bir nağme ile okunur.

Buna göre aşağıda bölümlerden hangisinde bu kurala ait bir örnek bulunmaktadır?

A)	الَّذِينَ هُمْ عَنْ
B)	تَرْمِيهِمْ بِحِجَارَةٍ
C)	وَلَمْ يَكُنْ لَهُ
D)	هُدًى لِّلْمُتَّقِينَ

20. Ayetel kürsi içinde aşağıdaki bölümlerden hangisi en son okunmaktadır?

A)	لَا تَأْخُذْهُ سِنَّةٌ وَلَا نَوْمٌ
B)	مَنْ ذَا الَّذِي يَشْفَعُ عِنْدَهُ إِلَّا بِإِذْنِهِ
C)	لَهُ مَا فِي السَّمَاوَاتِ وَمَا فِي الْأَرْضِ
D)	يَعْلَمُ مَا بَيْنَ أَيْدِيهِمْ وَمَا خَلْفَهُمْ

21. Günlük yaşantımızda sıkça kullandığımız ve barış, esenlik, huzur anlamına gelen sözdür. Bu sözü söylediğimizde karşımızdakine "Bana güvenebilirsin, benden sana zarar gelmez." şeklinde mesaj vermiş oluruz. Karşımızdaki de bize aynı şekilde cevap verir.

Bu söz aşağıdakilerden hangisidir?

- A) Tekbir
B) Selam
C) Besmele
D) Tevhid

22. "Yalnızca Sana kulluk eder, yalnızca Senden yardım dileriz."

Türkçe anlamı verilen ayet aşağıdakilerden hangisinde yer almaktadır?

- A) Fatiha
B) Kafirun
C) Nas
D) Fil

23. Amentü duasının anlamı içinde aşağıdaki inanç esaslarından hangisi diğerlerinden sonra söylenmektedir?

- A) Allah'a iman
B) Peygamberlere iman
C) Kitaplara iman
D) Meleklerle iman

24. Aşağıdakilerden hangisi sallı ve barik dualarında geçen konulardan değildir?

- A) Hz. Muhammed'in (s) ailesine selam
B) Hz. İbrahim'in ailesine selam
C) Allah'ın en yüce ve övülen olduğu
D) Ahirete inanmamız gerektiği

25. Allah'ım! Sen tüm eksikliklerden uzaksın. Seni daima överim. Senin adın kutludur.

Bir bölümü yukarıda verilen dua aşağıdakilerden hangisidir?

- A) Tahiyat
B) Salli Barik
C) Subhaneke
D) Kunut

26. Okulun bitişiğindeki camiden öğle ezanı okunmaya başladı. Müezzin "....." sözleriyle başlayan ezanı pek de güzel okuyordu. Herkes müezzinin yanık sesiyle okuduğu ezanın güzelliği karşısında adeta kendinden geçmişti.

Metinde boş bırakılan yer aşağıdakilerden hangisi ile ilgilidir?

- A) Tekbir
B) Besmele
C) Hamd
D) Salavat

27. "De ki: O, Allah tektir. Allah Samed'dir. (Her şey O'na muhtaçtır, O, hiçbir şeye muhtaç değildir.)"

Bir bölümü verilen İhlas suresinde hangi inanç esası anlatılmaktadır?

- A) Allah'a iman
B) Peygamberlere iman
C) Kitaplara iman
D) Meleklerle iman

28. "Lâilâhe illallah Muhammedün Resulullah" cümlesidir. Anlamı; "Allah'tan başka ilah yoktur, Hz. Muhammed Allah'ın elçisidir." şeklindedir.

Metin aşağıdaki hangi ifadenin açıklamasıdır?

- A) Kelime-i Şehadet
- B) Kelime-i Tevhid
- C) Salavat
- D) Tekbir

29. Kur'an-ı Kerim'in;

I- En uzun suresidir.

II- Son suresidir.

III- En kısa suresidir.

Verilenler arasında aşağıdaki hangi sure ile ilgili bilgi yer almamaktadır?

- A) Kevser
- B) Nas
- C) Bakara
- D) Fatiha

30. "Akrabalar arası bağların koparılmaması, aile içinde sevgi, malda bolluk ve ömrün uzamasına (bereketlenmesine) sebeptir." (Tirmizi)

Bu hadisin söyleniş amacı aşağıdakilerden hangisidir?

- A) Akrabalarla ilgiyi kesmemek gerekir.
- B) Zengin olmak kişinin temel amacı olmalıdır.
- C) Uzun ömürlü olmak için sağlığa dikkat etmek gerekir.
- D) Akrabalarla çeşitli ortaklıklar kurmak iyidir.

31. Peygamberimizin ailesi ile ilgili aşağıdakilerden hangisi doğru değildir?

- A) Sütannesinin adı Halime'dir.
- B) Babası Abdulmuttalip Peygamberimiz doğmadan ölmüştür.
- C) Annesi Amine, Peygamberimizin doğumunu müjdeleyen rüyalar görmüştür.
- D) Peygamberimizin hiç kardeşi olmamıştır.

32. Aşağıdakilerden hangisinde "yevmeizin - enne mâlehû - hayrun min elfi" ifadelerinden biri geçmemektedir?

A)	يَحْسَبُ أَنَّ مَالَهُ أَخْلَدَهُ
B)	يَوْمَئِذٍ تُحَدِّثُ أَخْبَارَهَا
C)	سَلَامٌ هِيَ حَتَّى مَطْلَعِ الْفَجْرِ
D)	لَيْلَةُ الْقَدْرِ خَيْرٌ مِنْ أَلْفِ شَهْرٍ

33. Ütül kitâbe -Yetlû suhufen- Hayrul beriyyeh

Aşağıdakilerden hangisinde yukarıda verilen ifadelerden herhangi birisi bulunmamaktadır?

A)	وَمَا تَفَرَّقَ الَّذِينَ أُوتُوا الْكِتَابَ إِلَّا مِنْ بَعْدِ مَا جَاءَتْهُمْ الْبَيِّنَةُ
B)	رَسُولٌ مِنَ اللَّهِ يَتْلُوا صُحُفًا مُطَهَّرَةً
C)	إِنَّ الَّذِينَ آمَنُوا وَعَمِلُوا الصَّالِحَاتِ أُولَئِكَ هُمْ خَيْرُ الْبَرِيَّةِ
D)	لَمْ يَكُنِ الَّذِينَ كَفَرُوا مِنْ أَهْلِ الْكِتَابِ وَالْمُشْرِكِينَ مُنْفَكِينَ حَتَّى تَأْتِيَهُمُ الْبَيِّنَةُ

34. Aşağıdaki ayetlerden hangisi "evhâlehâ" ifadesi ile bitmektedir?

A)	وَزَرَابِي مَبْنُوتَةٌ
B)	أَفَلَا يَنْظُرُونَ إِلَى الْإِبْلِ كَيْفَ خُلِقَتْ
C)	بِأَنَّ رَبَّكَ أَوْحَى لَهَا
D)	يَوْمَئِذٍ تُحَدِّثُ أَخْبَارَهَا

35. Kunut duaları iki bölümden oluşmaktadır. İki bölümün başında da "Allah'ım" anlamına gelen Allâhumme ifadesi bulunmaktadır.

Aşağıdakilerden hangisi Kunut dualarının ikinci bölümünün başlangıcıdır?

- A) Biz yalnız sana kulluk ederiz.
- B) Azabından korkarız.
- C) Sana güvenimiz.
- D) Sana inanırız, sana tövbe ederiz.

36. Ona ne malı fayda verdi, ne de kazandığı. O, bir alevli ateşe girecektir.

Türkçe anlamının bir kısmı verilen sure aşağıdakilerden hangisidir?

- A) Fatiha
- B) Leheb
- C) İhlas
- D) Maun

37. Aşağıdakilerden hangisi Felak suresi içinde Allah'a sığındığımız durumlardan değildir?

- A) Haset ettiği zaman hasetçinin kötülüğünden
- B) Karanlığı çöktüğü zaman gecenin kötülüğünden
- C) İnsanların kalplerine vesvese veren sinsi vesvesecinin kötülüğünden
- D) Yarattığı şeylerin kötülüğünden

38. Aşağıdakilerden hangisi, **Ayetel Kürsi'nin Türkçe anlamı içinde yer almamaktadır**?

- A) Onlar onun ilminden, kendisinin dilediği kadarından başka bir şey kavrayamazlar.
- B) Hiçbir şey O'na denk ve benzer değildir.
- C) O, kulların önlerindeki ve arkalarındaki (yaptıklarını ve yapacaklarını) bilir.
- D) Göklerdeki her şey, yerdeki her şey onundur.

39. Maun suresinde yaptıkları bazı kötülükler nedeniyle eleştirilen kimseler anlatılmaktadır.

Aşağıdakilerden hangisi bu kimselerin Allah tarafından eleştirilmesine neden olan kötülükler arasında sayılmamıştır?

- A) Yetimi itip kakmak
- B) Yoksula doyurmayı özendirmemek
- C) Namazı ciddiye almamak
- D) Doğru sözlü olmamak

40. "Üzerlerine sürü sürü kuşlar gönderdi."

Yukarıda verilerden bir önceki ayetin Türkçe anlamı aşağıdakilerden hangisidir?

- A) Balçıktan pişirilmiş taşlar atıyorlardı.
- B) Rabbinin, fil sahiplerine ne yaptığını görmedin mi?
- C) Onların tuzaklarını boşa çıkarmadı mı?
- D) Nihayet onları yenilmiş ekin yaprakları haline getirdi.

SINAV SONA ERMIŞTİR. LÜTFEN CEVAPLARINIZI KONTROL EDİNİZ.

2019 HAFİZİHO CEVAP ANAHTARI A KİTAPÇIĞI
1. BÖLÜM

1	C
2	C
3	A
4	D
5	B
6	A
7	D
8	D
9	C
10	A
11	C
12	D
13	B
14	A
15	A
16	C
17	A
18	JMÜ DOĞRU
19	A
20	C
21	C
22	B
23	C
24	A
25	B
26	D
27	A
28	C
29	D
30	A
31	B
32	C
33	D
34	A
35	C
36	A
37	D
38	B
39	B
40	A

2. BÖLÜM

1	D
2	D
3	B
4	C
5	A
6	D
7	B
8	A
9	B
10	C
11	D
12	C
13	A
14	D
15	B
16	C
17	A
18	D
19	B
20	D
21	B
22	A
23	B
24	D
25	C
26	A
27	A
28	B
29	D
30	A
31	B
32	C
33	D
34	C
35	A
36	B
37	C
38	B
39	D
40	C